

Г-7-03

Всероссийская олимпиада школьников 2024-2025 учебный год

Школьный этап. География, 7 класс

Время выполнения 60 мин. Максимальное кол-во баллов –38

БЛАНК ОТВЕТОВ

Тестовый тур

№ задания	Ответ	Кол-во баллов	№ задания	Ответ	Кол-во баллов
1	В	1	10	А	1
2	А	1	11	ВАГБ	0
3	Г А В Б	0	12	Г	0
4	Г	0	13	Россия = 211 км	1
5	В	1	14	Б	0
6	Г В А Б	1	15	В	0
7	Г	0	16	А	1
8	А-3, Б2 - В4, Г1	0	17	А	0
9	Б	0	18	В	0
Всего баллов	7				

Практический тур

Задание № 1.

Матрица ответов





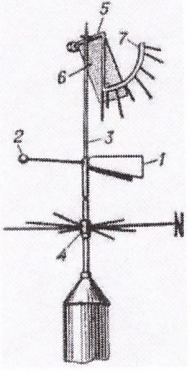

1	2	3	4	5	6	7	8	9	10
Г	В	А	З	Е	К	А	Ж	У	Б
К0	В1	А1	З0	Г1	Е1	А1	Ж1	У1	0

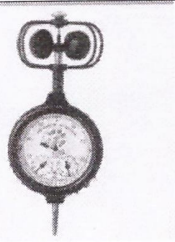



Задание № 2.

Вставьте недостающую информацию о географических приборах в соответствующую колонку. Максимальное количество баллов, которое можно набрать –10.

Прибор	Название	Для чего служит?

78

<p>1.</p> 	<p>Барометр</p>	<p>Для измерения давления</p>	<p>1</p>
<p>2.</p> 	<p>Курвиметр</p>	<p>Для измерения длины извилистых линий</p>	<p>1</p>
<p>3.</p> 	<p>Телурий</p>	<p>Прибор для наглядной демонстрации годового движения Земли вокруг Солнца и суточного вращения Земли вокруг своей оси.</p>	<p>1</p>
<p>4.</p> 	<p>Гигрометр психрометрический</p>	<p>Вычисляет относительную влажность</p>	<p>1</p>
<p>5.</p> 	<p>Флюгер</p>	<p>Прибор для измерения направления ветра.</p>	<p>1</p>
<p>6.</p> 	<p>Осадкомер</p>	<p>Для измерения осадков</p>	<p>1</p>

<p>7.</p> 	<p>Анемометр</p>	<p>Прибор для измерения скорости ветра.</p>	<p>0</p>
<p>8.</p> 	<p>Сейсмограф</p>	<p>Средства измерения колебаний, создаваемых при столкновении литосферных плит</p>	<p>1</p>
<p>9.</p> 	<p>Компас</p>	<p>Прибор, предназначенный для определения сторон горизонта и состоящий из намагниченной стрелки, всегда показывающей на север.</p>	<p>0</p>
<p>10.</p> 	<p>Лазерный дальномер</p>	<p>Определяет расстояние между двумя предметами</p>	<p>1</p>