

Г-7-02

Всероссийская олимпиада школьников 2024-2025 учебный год
Школьный этап. География, 7 класс
Время выполнения 60 мин. Максимальное кол-во баллов –38
БЛАНК ОТВЕТОВ

Тестовый тур

№ задания	Ответ	Кол-во баллов	№ задания	Ответ	Кол-во баллов
1	В	1	10	А	1
2	А	1	11	В, А, Б, Г	0
3	Г, А, Б, В	0	12	В	1
4	Г	0	13	1 см 2 11 км	1
5	В	1	14	В	0
6	Г, В, А, Б	1	15	В	0
7	В	1	16	А	1
8	А-3, Б-2, В-4, Г-1	0	17	Г	0
9	Б	0	18	А	1
Всего баллов	10				

Практический тур

Задание № 1.





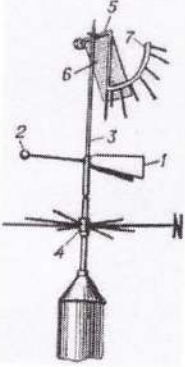

Матрица ответов




1	2	3	4	5	6	7	8	9	10
З 1	В 1	А 1	Б 1	Г 1	Е 1	Д 1	Ж 1	И 1	К 1

Задание № 2.

Вставьте недостающую информацию о географических приборах в соответствующую колонку. Максимальное количество баллов, которое можно набрать –10.

Прибор	Название	Для чего служит?

<p>1.</p> 	<p>Барометр</p>	<p>Для измерения давления</p>	<p>1</p>
<p>2.</p> 	<p>Курвиметр</p>	<p>Для измерения длины измерительных линий</p>	<p>1</p>
<p>3.</p> 	<p>Гемисферий</p>	<p>Прибор для наглядной демонстрации годового движения Земли вокруг Солнца и суточного вращения Земли вокруг своей оси.</p>	<p>1</p>
<p>4.</p> 	<p>Гигрометр психрометрический</p>	<p>Измеряет температуру и влажность воздуха</p>	<p>1</p>
<p>5.</p> 	<p>Ветромер</p>	<p>Прибор для измерения направления ветра.</p>	<p>0</p>
<p>6.</p> 	<p>Осадкомер</p>	<p>Для измерения осадков</p>	<p>1</p>

<p>7.</p> 	<p>Анемометр</p>	<p>Прибор для измерения скорости ветра.</p>	<p>1</p>
<p>8.</p> 	<p>Сейсмограф</p>	<p>Средство измерения колебаний, создаваемых при сотрясывании или сдвиге плит</p>	<p>1</p>
<p>9.</p> 	<p>Компас</p>	<p>Прибор, предназначенный для определения сторон горизонта и состоящий из намагниченной стрелки, всегда показывающей на север.</p>	<p>1</p>
<p>10.</p> 	<p>Лазерный дальномер</p>	<p>Определить расстояние между двумя предметами</p>	<p>1</p>